
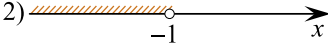
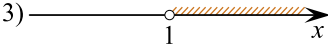



Каждому из четырёх неравенств в левом столбце соответствует одно из решений из правого столбца. Установите соответствие между неравенствами и множествами их решениями.

НЕРАВЕНСТВА	РЕШЕНИЯ
А) $\log_2 x > 0$	1) 
Б) $2^{-x} > 2$	2) 
В) $\frac{x}{x-1} < 0$	3) 
Г) $\frac{1}{x(x-1)} > 0$	4) 

Запишите в ответ цифры, расположив их в порядке, соответствующем буквам:

А	Б	В	Г

ИЛИ

На прямой отмечены точки K, L, M и N .



Установите соответствие между указанными точками и числами из правого столбца, которые им соответствуют.

ТОЧКИ	ЧИСЛА
А) K	1) $\log_3 2$
Б) L	2) $\frac{30}{7}$
В) M	3) $\sqrt{3,5}$
Г) N	4) $0,3^{-1}$

Впишите в приведённую в ответе таблицу под каждой буквой соответствующую цифру.

А	Б	В	Г